

Der Feuerwehrmann braucht Hilfe beim Sortieren.
Insgesamt 112 Gegenstände liegen vor ihm auf dem Tisch.

Wie viele Äxte, Feuerlöcher, Atemschutzgeräte, Motorsägen, Spaten, Helme, Schutzhandschuhe, Eimer, Sprachrohre und Taschenlampen muss er ins Regal räumen?



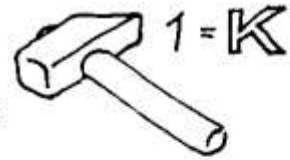
Was stimmt hier nicht auf dem Bild?





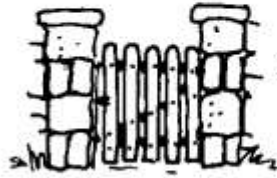

Was passt hier zusammen oder gehört zueinander? Ein Teil bleibt übrig.
 Welches?

Bei Familie Müller hat die

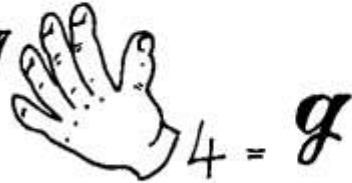


gebrannt.

Der



1 = V



4 = g

hatte Feuer gefangen.

Der



5 = L



hat das


Feuer zuerst gesehen.

Der



hat die Feuerwehr informiert.

Die Feuerwehrmänner haben eine




gebildet.

Dabei hat Egon seine




5 = 1






verloren.

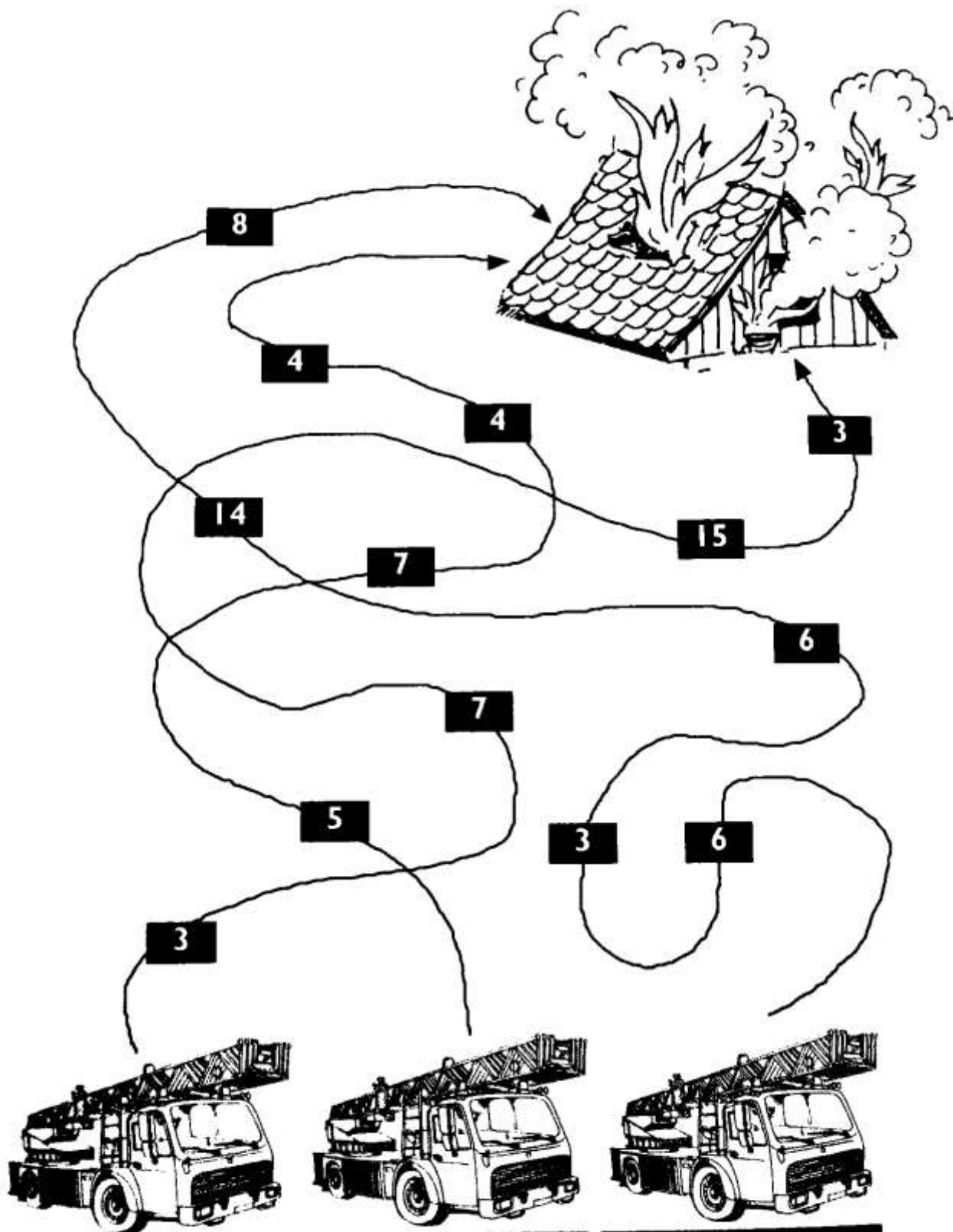
Können ihr den Bericht der Feuerwehr entziffern?



Aus welchem Hydranten kommt das Wasser zum Löschen?

1**2****3**

Die alten Handdruckspritzen 2 und 3 unterscheiden sich von Nummer 1 in jeweils 5 Einzelheiten. Können Sie alle 10 Unterschiede entdecken?



Pattensen

Hüpede

Oerie

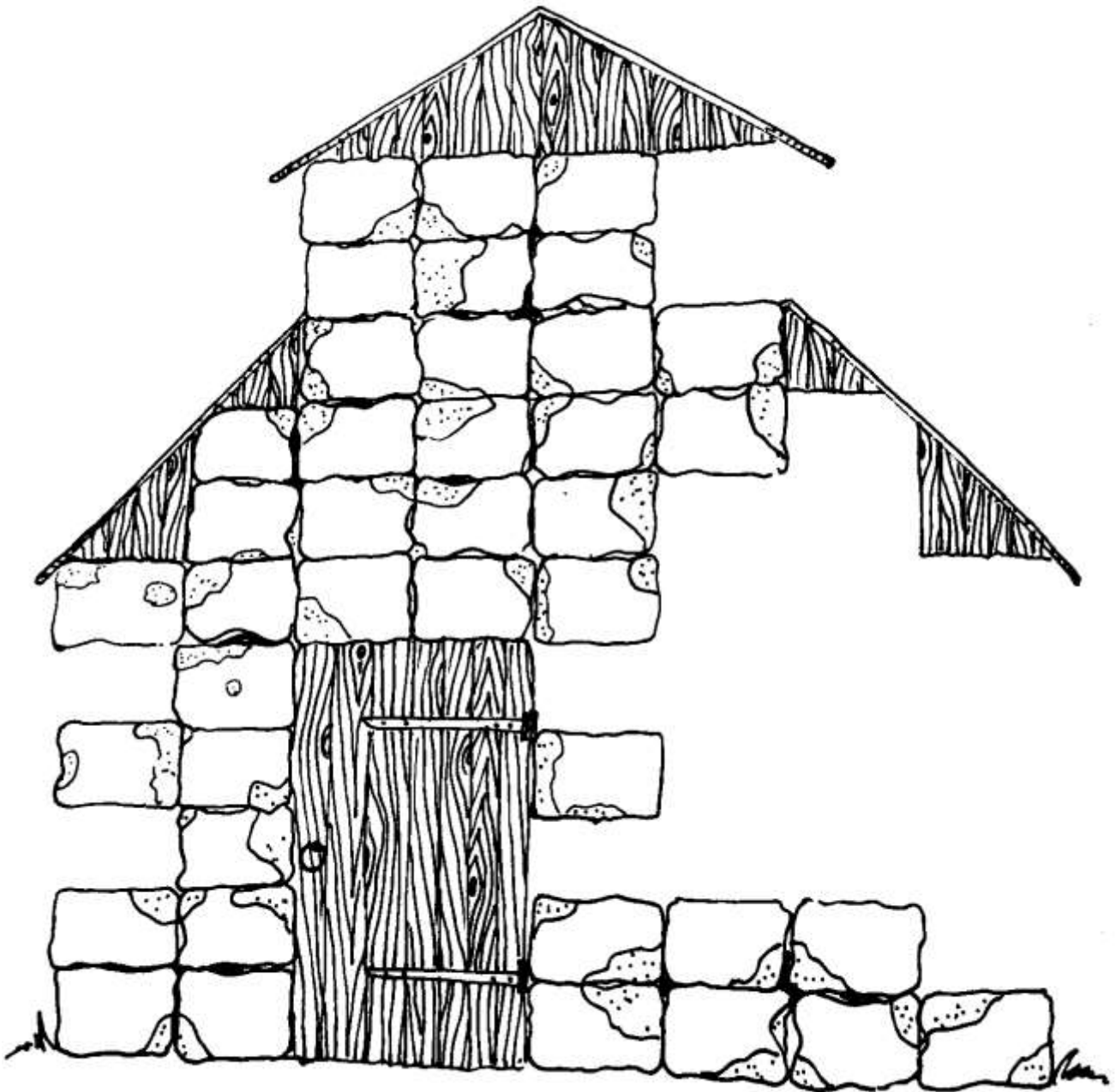
Die Ortsfeuerwehren aus Pattensen, Hüpede und Oerie sind auf dem Weg zur Einsatzstelle.
Welche Ortsfeuerwehr hat den kürzesten Weg?

Zählt die Kilometer zusammen.

A = x	G = ▽	M = ∞	S = ⊙	Y = ↗
B = o	H = ⊗	N = Γ	T = ⌘	Z = ↙
C = ‡	I = =	O = J	U = w	
D = /	J =	P = ∩	V = §	
E = \	K = †	Q = ∪	W = □	
F = Δ	L = 8	R = ✕	X = ⊞	

▽ \ ⊗ ⊙ ⌘ / w ⊗ \ w ⌘ \ ∞ = ⌘
 ↙ w ✕ o ✕ x Γ / ⊙ ‡ ⊗ w ⌘ ↙ \ ✕ -
 ↙ = \ ⊗ w Γ ▽ ?

Wie lautet diese Nachricht?

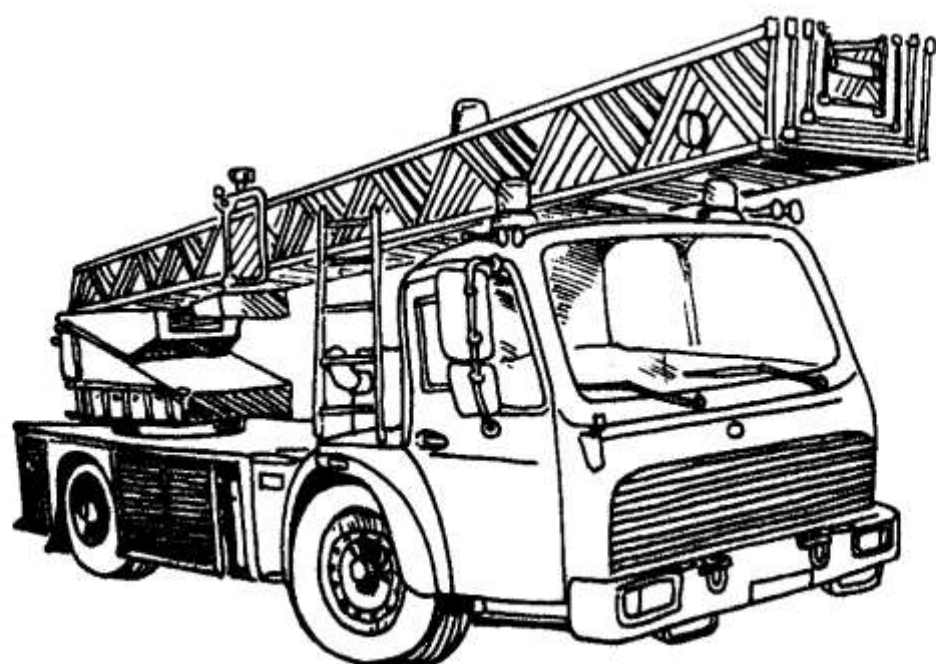


Durch Unachtsamkeit beim Schweißen ist die Lagerhalle einer Fabrik abgebrannt.

Nun soll sie wieder aufgebaut werden.

Wie viele Steine fehlen noch zur Fertigstellung der Halle?

Y S W Q Ö R Ü A L Ö S C H F A H R Z E U G Z I L Ä
H H Z U I D V Ö Ü S S X D R E H L E I T E R U H C
C H R I S R Ü S T W A G E N J U Z G H V I L Ö N E
R E T T U N G S W A G E N H Z U T F E U U R L P I
J V B C X S C H L A U C H W A G E N I N B G S O Z
M I N M B F E U E R W E H R K R A N L K J I M Z O
L O B A B R O L L B E H Ä L T E R N N I J Z D E R
K A N T A N K L Ö S C H F A H R Z E U G T I F F Ü
W A S S E R R E T T U N G S G E R Ä T E W A G E N
E P R E T T U N G S H U B S C H R A U B E R E P S
F A L L L Ö S C H B O O T J K O L U Z T R I M N O
E I N S A T Z L E I T W A G E N T U G D A A U D T



Die Notrufnummer für Feuerwehr und Rettungsdienst lautet:

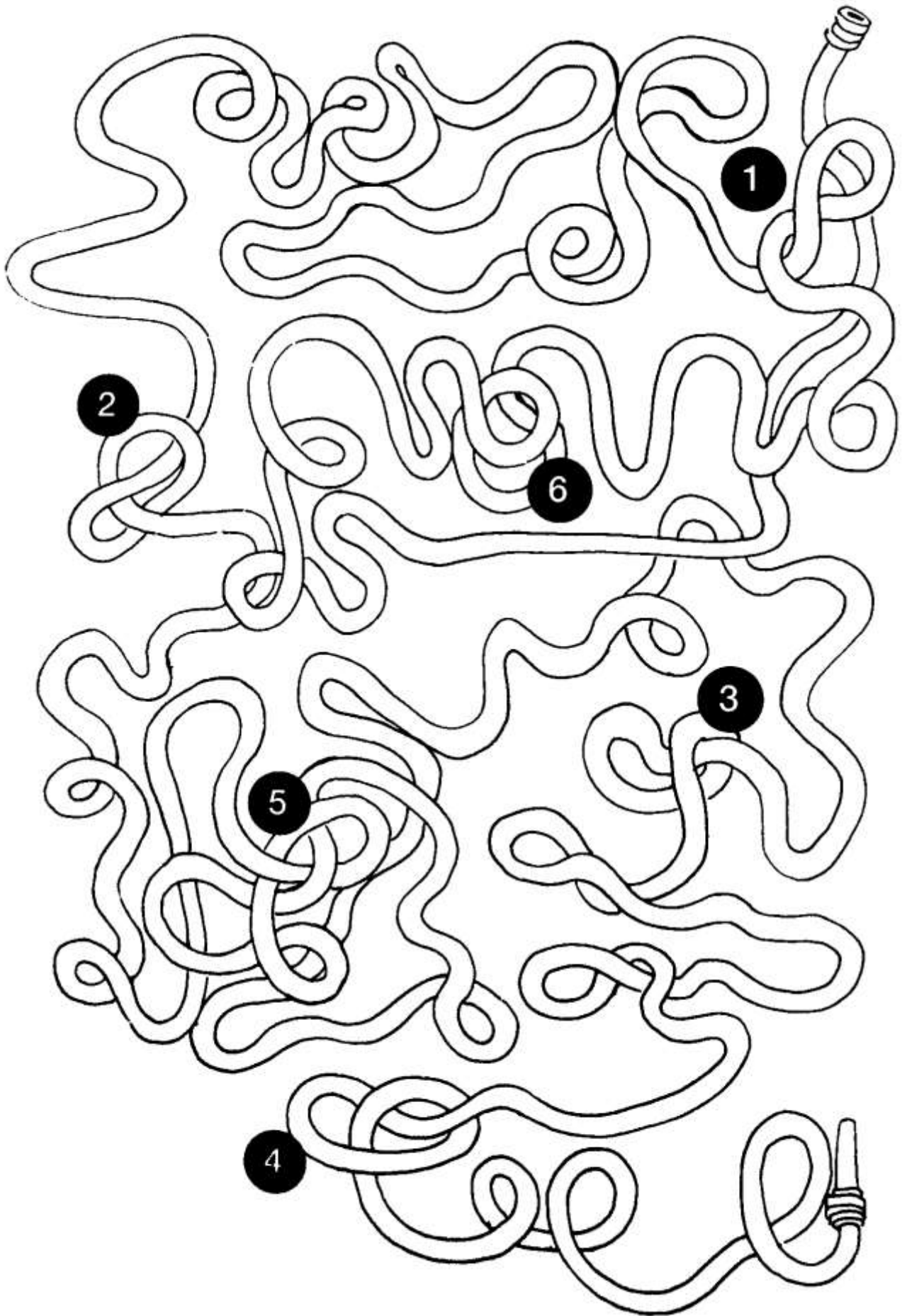
112



Im folgenden Zahlenwirrwarr ist die Nummer zehnmals versteckt.

Wo?

1	3	4	5	7	1	1	2	4	5	7	3	1	0	2
2	1	1	2	5	6	3	1	2	0	3	2	7	6	5
9	9	0	8	7	4	1	1	2	3	1	1	1	2	8
8	7	6	1	3	2	1	2	6	5	8	0	9	8	3
9	0	8	1	7	5	6	1	3	2	7	5	1	0	8
8	7	4	3	0	4	5	6	2	0	2	6	1	1	2
6	5	3	9	1	3	2	0	5	6	4	8	3	3	5
1	1	2	4	5	0	8	6	3	2	1	1	0	9	4
0	1	1	2	9	1	1	2	7	1	1	2	1	1	2
9	0	6	7	8	5	4	0	3	2	9	7	5	3	3



Welche Knoten muss der Feuerwehrmann entwirren, damit das Wasser durch den Schlauch fließen kann?